

ECUACIONES DE RESTAS CON OBJETOS

Completar el numero faltante de las siguientes ecuaciones

$$6 - _ _ = \boxed{3} \quad \bigcirc \bigcirc \bigcirc$$

$$3 - _ _ = \boxed{2} \quad \bigcirc \bigcirc$$

$$2 - _ _ = \boxed{1} \quad \bigcirc$$

$$5 - _ _ = \boxed{4} \quad \bigcirc \bigcirc \bigcirc \bigcirc$$

$$1 - _ _ = \boxed{5} \quad \bigcirc \bigcirc \bigcirc \bigcirc \bigcirc$$

ECUACIONES DE RESTAS CON OBJETOS

Completar el numero faltante de las siguientes ecuaciones

$$6 - _ _ = \boxed{4}$$



$$8 - _ _ = \boxed{3}$$




$$4 - _ _ = \boxed{2}$$



$$7 - _ _ = \boxed{4}$$




$$9 - _ _ = \boxed{8}$$




ECUACIONES DE RESTAS CON OBJETOS

Completar el numero faltante de las siguientes ecuaciones

$$10 - \underline{\quad} = \boxed{9}$$



$$9 - \underline{\quad} = \boxed{8}$$



$$1 - \underline{\quad} = \boxed{7}$$



$$8 - \underline{\quad} = \boxed{6}$$



$$5 - \underline{\quad} = \boxed{2}$$

