




RESTAS CON OBJETOS EN VERTICAL


Realiza las siguientes restas de un Objetos, contando, escribiendo los objetos y colocando el resultado debajo de la linea.



NOMBRE

RESTAS CON OBJETOS EN VERTICAL

Realiza las siguientes restas de un Objetos, contando, escribiendo los objetos y colocando el resultado debajo de la linea.



NOMBRE

RESTAS CON OBJETOS EN VERTICAL

Realiza las siguientes restas de un Objetos, contando, escribiendo los objetos y colocando el resultado debajo de la linea.

