

RESTA CON OBJETOS


Realiza las siguientes restas de dibujos, colocando el resultado en cada cuadro.



$$7 - 4 = \square$$



$$8 - 5 = \square$$



$$5 - 3 = \square$$







$$5 - 4 = \square$$

NOMBRE

RESTA CON OBJETOS

Realiza las siguientes restas de dibujos, colocando el resultado en cada cuadro.

 $-$  $=$

 $-$  $=$

 $-$  $=$

 $-$  $=$

NOMBRE

RESTA CON OBJETOS

Realiza las siguientes restas de dibujos, colocando el resultado en cada cuadro.

$$\begin{array}{c} \star \star \star \star \star \\ \star \star \star \star \star \end{array} - \begin{array}{c} \star \star \star \\ \star \star \star \end{array} = \square$$

$$\begin{array}{c} \text{ice cream} \\ \text{ice cream} \\ \text{ice cream} \\ \text{ice cream} \\ \text{ice cream} \end{array} - \begin{array}{c} \text{ice cream} \\ \text{ice cream} \\ \text{ice cream} \\ \text{ice cream} \end{array} = \square$$

$$\begin{array}{c} \heartsuit \heartsuit \heartsuit \\ \heartsuit \heartsuit \heartsuit \end{array} - \begin{array}{c} \heartsuit \\ \heartsuit \heartsuit \end{array} = \square$$

$$\star \star \star \star \star - \star = \square$$