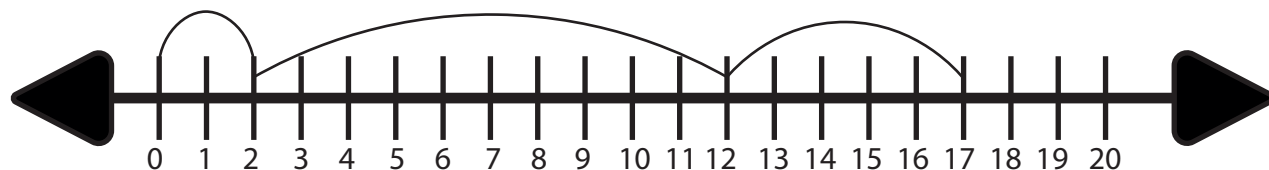


SUMA DE RECTA NUMÉRICA DE 3

Realiza las siguientes ecuación saltando en el dibujo de la recta numérica colocando el resultado en cada cuadro.



$$2 + 10 + 5 = \boxed{17}$$



$$6 + 3 + 4 = \boxed{}$$

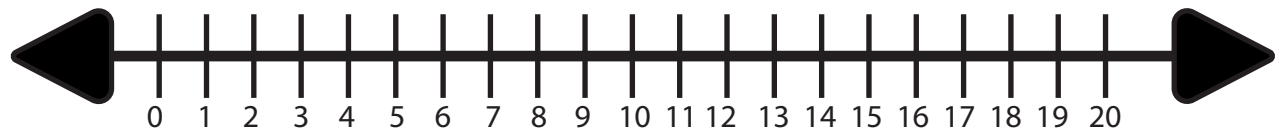


$$7 + 2 + 5 = \boxed{}$$

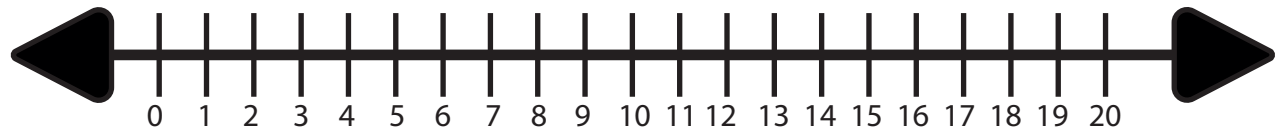
NOMBRE

SUMA DE RECTA NUMÉRICA DE 3

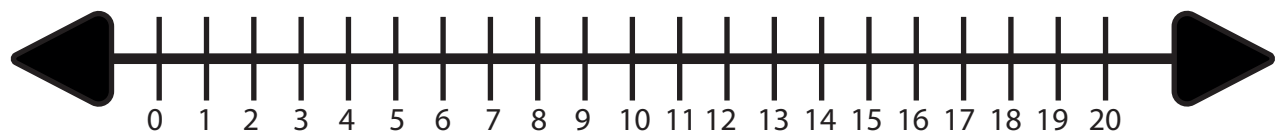
Realiza las siguientes ecuación saltando en el dibujo de la recta numérica colocando el resultado en cada cuadro.



$$4 + 4 + 6 = \square$$



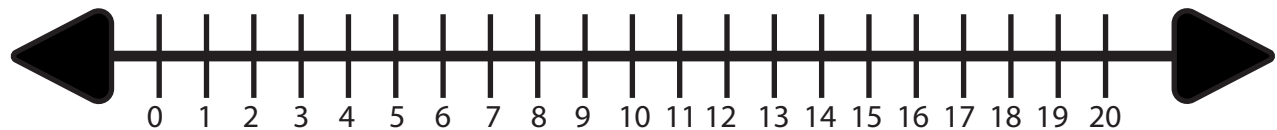
$$5 + 10 + 3 = \square$$



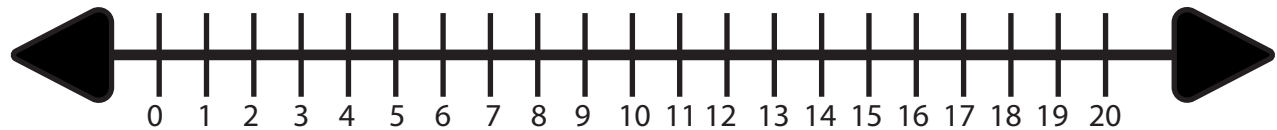
$$10 + 3 + 2 = \square$$

SUMA DE RECTA NUMÉRICA DE 3

Realiza las siguientes ecuación saltando en el dibujo de la recta numérica colocando el resultado en cada cuadro.



$$8 + 4 + 5 = \square$$



$$6 + 7 + 2 = \square$$



$$9 + 2 + 6 = \square$$