

NOMBRE

FRACCIONES EN LA RECTA NUMÉRICA

Realiza las siguientes fracciones en la recta numérica para quinto grado.



$$\frac{1}{4}$$



$$\frac{3}{8}$$



$$\frac{2}{3}$$

NOMBRE

FRACCIONES EN LA RECTA NUMÉRICA

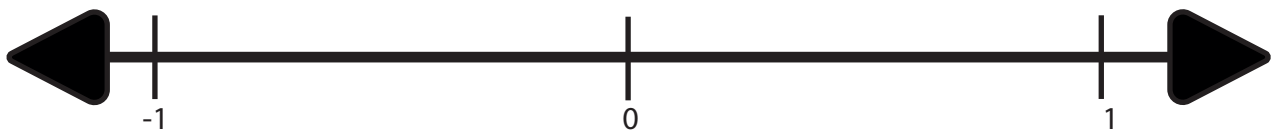
Realiza las siguientes fracciones en la recta numérica para quinto grado.



$$\frac{5}{6}$$



$$\frac{1}{2}$$



$$\frac{3}{4}$$


NOMBRE

FRACCIONES EN LA RECTA NUMÉRICA


Realiza las siguientes fracciones en la recta numérica para quinto grado.



$$\frac{2}{5}$$



$$\frac{3}{7}$$



$$\frac{4}{9}$$